

ДЕМОНСТРАЦИОННЫЙ ВАРИАНТ

проверочных материалов для промежуточной аттестации обучающихся 1 классов
в форме Семейного образования и Самообразования
по Окружающему миру

Назначение демонстрационного варианта заключается в том, чтобы дать возможность составить представление о структуре работы, количестве заданий, их форме, уровне сложности.

Спецификация

- Все задания носят закрытый характер.
- Количество заданий в демонстрационном варианте совпадает с количеством заданий в аттестации. Предусмотрено 15-20 вопросов.
- Письменных работ не содержит.

Содержательные разделы проверочной работы (что учащийся должен уметь делать в рамках предмета изучения)
Уметь соотносить изученные природные объекты и явления с их описаниями.
Уметь выделять основные существенные признаки изученных объектов и явлений живой и неживой природы.
Уметь определять характер взаимоотношений человека с природой.
Уметь описывать на основе предложенного плана изученные объекты и явления живой и неживой природы.
Узнавать изученные объекты и явления в ходе непосредственных наблюдений в окружающей природе.
Уметь выделять основные существенные признаки изученных объектов и явлений живой и неживой природы.
Сравнивать объекты на основе внешних признаков или известных характерных свойств.
Узнавать флаг и герб Российской Федерации.
Знать текст гимна Российской Федерации.
Называть столицу России.
Знать правила безопасного поведения и понимать необходимость их соблюдения
Оценивать характер взаимоотношений людей в различных социальных группах (на примере семьи).
Узнавать (приводить примеры) достопримечательности Москвы.

Тестовые задания

Выбери и укажи номер правильного ответа.

1 . О каком явлении природы идёт речь в загадке:

Бежал по тропке луговой —

Кивали маки головой.

Бежал по речке голубой —

Речка сделалась рябой.

- 1) ветер
- 2) облака
- 3) снег
- 4) дождь

2. Пар отличается от воды тем, что

- 1) он твердый
- 2) его можно налить
- 3) Вода – течёт, в пар – разлетается
- 4) сквозь него можно видеть

3. Чтобы не замерзнуть человеку понадобятся:

- 1) зонт
- 2) теплая шапка
- 3) шарф
- 4) резиновые сапоги

4. Укажи, с какого месяца начинается зима?

- 1) с декабря
- 2) с июня
- 3) с января
- 4) с ноября

5. Укажи, в каком порядке следуют времена года в календаре, начиная с зимы?

- 1) зима, весна, осень, лето
- 2) зима, осень, лето, весна
- 3) зима, весна, лето, осень
- 4) зима, лето, весна, осень

6. Выбери из списка и укажи два живых организма.

- 1) кирпич
- 2) воробей
- 3) вода
- 4) гусеница

7. Рядом с названием поле для ответа поставь цифру 1, если предмет изготовлен человеком, и цифру 2, если он природный.

- 1) провод _____
- 2) ткань _____
- 3) трава _____
- 4) яблоко _____

8. Выбери строку, где указан один из основных признаков зимы. Впиши номер в поле для ответа. Точку не ставь.

- 1) распускающиеся почки
- 2) первый снег

Ответ: _____

9. Отгадай загадку и укажи правильный ответ:

«Он совсем неслышно

На прогулку вышел.

Мокрым, мягким клювом

Постучал по крышам.

Полосатым следом

Прочертил окошко.

А пройдя, остался

У меня в ладошках»

- 1) ветер
- 2) радуга
- 3) дождь
- 4) снег

10. Выбери и укажи строку, где перечислены зимние месяцы.

- 1) сентябрь, октябрь, ноябрь
- 2) март, апрель, май
- 3) декабрь, январь, февраль
- 4) июнь, июль, август

11. Какие из предметов НЕ являются электроприборами? Укажи два правильных ответа.

- 1) утюг
- 2) стиральная машина
- 3) занавески
- 4) раковина

12. На каком из рисунков изображен ФЛАГ Российской Федерации? Впиши номер в поле для ответа.



Ответ: _____





13. Торжественная песня, исполняемая в особых случаях, называется:

- 1) напев
- 2) девиз
- 3) гимн
- 4) припев

14. Укажи, какой город НЕ является столицей Российской Федерации:

- 1) Санкт-Петербург
- 2) Москва

15. Выбери знак, который запрещает въезд транспортных средств на определенный участок дороги? Впиши его номер в поле для ответа.

			
1)	2)	3)	4)

Ответ: _____

16. Папу Игоря зовут Иван Андреевич. Укажи имя и отчество мальчика:

- 1) Игорь Андреевич
- 2) Игорь Иванович
- 3) Иван Игоревич
- 4) Андрей Игоревич



17. Какая часть дороги предназначена для пешеходов?

- 1) «зебра» (пешеходный переход)
- 2) обочина
- 3) проезжая часть
- 4) тротуар

18. Укажи, где детям НЕЛЬЗЯ кататься на велосипеде:

- 1) проезжая часть дороги
- 2) двор дома

19. Рядом с названием достопримечательности в свободной части строки таблицы поставь цифру 1, если она находится в Кремле, цифру 2, если за его пределами.

	
1. Успенский Собор	2. Храм Христа Спасителя

Храм Христа Спасителя	
Успенский Собор	

20. Если ты будешь рисовать сигнал светофора, говорящий о том, что надо подождать и быть внимательным, какого цвета карандаш тебе понадобится?

- 1) зеленый
- 2) красный
- 3) желтый

Таблица к заданиям с выбором ответа и кратким ответом

Номер задания	Ответ
1	1
2	3
3	2,3
4	1
5	3
6	2,4
7	1,1,2,2
8	2
9	3
10	3
11	3,4
12	3
13	3
14	1
15	4
16	2
17	1,4
18	1
19	2,1
20	3